





Név: _____

Osztály: _____

A sárkányölő

Sárkánykirálynak 3 gyermeke született. A középső gyereknek eggyel több feje volt, mint a legidősebbnek, a legkisebbnek annyi feje, mint testvéreinek összesen. Hány fejjel születtek a kicsik, ha összesen 18 fejük volt? A megoldásban segít a rajz.



Így dolgoztam: ☹️ 😐 😊





Név: _____

Osztály: _____

A sárkányölő

Sárkánykirálynak 3 gyermeke született. A középső gyereknek eggyel több feje volt, mint a legidősebbnek, a legkisebbnek annyi feje, mint testvéreinek összesen. Hány fejjel születtek a kicsik, ha összesen 18 fejük volt? A megoldásban segít a rajz.



Így dolgoztam: ☹️ 😐 😊